

МУНИЦИПАЛЬНЫЙ ЭТАП ОЛИМПИАДЫ ПО ИСТОРИИ
2017-2018 учебный год
8 КЛАСС

73

Задание 1. Выберите несколько верных ответов и запишите их в таблицу (18 баллов).

1.1. Выберите события, относящиеся к деятельности Владимира Мономаха.

- 1. Указ о заповедных летах 1581 1113-1125
- 2. Указ о резах
- 3. Первая битва Руси с половцами после 1036
- 4. Крестовый поход в степь (мовет быть) Крестовые походы 1092-1134
- 5. Любечский съезд 1037
- 6. Стоглавый собор при Иване IV Грозном

1.2. Выберите события, относящиеся к эпохе правления Василия III. 1505-1533

- 1. Кругосветное плавание экспедиции Ф. Магеллана. 1514
- 2. Присоединение Новгорода к Москве 1478
- 3. Осуждение М. Лютера
- 4. Присоединение Пскова к Москве 1510
- 5. Экспедиция Ермака 1581
- 6. Изобретение книгопечатания И. Гутенбергом 1445

1.3. Выберите события, относящиеся к эпохе правления Алексея Михайловича.

- 1. Учреждение стрелецкого войска 1645-1646
- 2. Отмена внутренних таможенных пошлин
- 3. Новоторговый устав 1667
- 4. Андрусовское перемирие 1654-1667
- 5. Протекторат О. Кромвеля 1653
- 6. Смоленская война 1632-34

Владимир Мономах	Василий III	Алексей Михайлович
<u>5, 2, 4</u>	<u>1, 3, 4</u>	<u>3, 4, 5</u>

Задание 2. Проанализируйте отрывок из сочинения В.О. Ключевского и дайте ответы на поставленные вопросы (8 баллов).

«Он боялся всего в России, называл её проклятой страной и сам выражал убеждение, что в ней непременно придется погибнуть, но нисколько не старался освоиться и сблизиться с ней, ничего не узнал о ней и всего чуждался; она пугала его, как пугаются дети, оставшиеся одни в обширной пустой комнате.»

Назовите:

- 1. Имя русского монарха, о котором говорится в этом отрывке Петр III
- 2. Годы его правления 1761-1762
- 3. Имя его предшественника (или предшественницы) Елизавета II 1741-1761
- 4. Имя того (или той), кто вступил на престол после него Екатерина II 1762-1796

МУНИЦИПАЛЬНЫЙ ЭТАП ОЛИМПИАДЫ ПО ИСТОРИИ
2017–2018 учебный год
8 КЛАСС

Задание 3. Назовите годы правления следующих князей и монархов (5 баллов).

- Юрий Долгорукий 1125-1154*
- А. Андрей Боголюбский 1154 - 1174 +
- Б. Василий III 1525 - 1533 +
- В. Анна Иоанновна 1730 - 1740 +
- Г. Борис Годунов 1598 - 1605 +
- Д. Павел I 1796 - 1801 +

Задание 4. Прочитайте документ и дайте ответ на вопросы (8 баллов).

«А крестьянин уходит из волости, из села в село, один срок в году, за неделю до Юрьева дня и неделю после Юрьева дня. Дворы пожилые платят в полях за двор рубль, а в лесах полтина. А который крестьянин поживет за кем год, да пойдет прочь, и он платит четверть двора, и два года поживет... полдвора платит, а три года поживет <...> платит три четверти двора, а четыре года поживет и он весь двор платит»

Вопросы:

1. Назовите исторический источник, содержащий данный текст Судебник Ивана III
2. Назовите дату создания этого исторического источника 1497
3. Назовите имя монарха, правившего в это время в России Иван III
4. Укажите время правления этого монарха 1462 - 1505

Задание 5. Соотнесите элементы правого и левого столбцов (15 баллов).

5.1. Соотнесите имена монархов и церковных деятелей, их современников.

А	Василий I <u>1389 - 1425</u>	1	Митрополит Геронтий
Б	Иван III <u>1462 - 1505</u>	2	Игумен Филофей <u>посол ... Москва - 3 Рим</u>
В	Василий III <u>1505 - 1533</u>	3	Митрополит Киприан
Г	Алексей Михайлович <u>1645 - 1646</u>	4	Феофан Прокопович ✓
Д	Петр I	5	Патриарх Гермоген <u>(визита)</u>
		6	Протопоп Аввакум ✓

А	Б	В	Г	Д
<u>3</u>	<u>1</u>	<u>4</u>	<u>6</u>	<u>5</u>

5.2. Соотнесите имена монархов и полководцев, их современников.

А	Иван III	1	Петр Ласси <u>1454 - 1462</u>
Б	Федор Алексеевич <u>1646 - 1682</u>	2	Даниил Щеня
В	Анна Иоанновна <u>1730 - 1740</u> ✓	3	Михаил Шеин <u>1632 - 34</u>
Г	Михаил Федорович <u>1613 - 1645</u> ✓	4	Михаил Милорадович
Д	Александр I ✓	5	Михаил Скобелев
		6	Федор Ромодановский <u>визита</u>

А	Б	В	Г	Д
<u>4</u>	<u>5</u>	<u>1</u>	<u>3</u> ✓	<u>2</u>

МУНИЦИПАЛЬНЫЙ ЭТАП ОЛИМПИАДЫ ПО ИСТОРИИ

2017–2018 учебный год

8 КЛАСС

5.3. Установите соотношение между именами монархов и архитектурными сооружениями, возведенными во время их правления.

А	Юрий Всеволодович	1	Большой Кремлевский дворец
Б	Александр I	2	Дмитриевский собор во Владимире
В	Николай I	3	Георгиевский собор в Юрьеве-Польском
Г	Петр I	4	Таврический дворец
Д	Екатерина II	5	Сухарева башня
		6	Казанский собор

А	Б	В	Г	Д
2	4	3	5	7

Задание 6. Верно ли, что...? (10 баллов).

1. Современником Ивана IV был Карл VII Валуа.
2. Бориса Годунова венчал на царство Патриарх Гермоген.
3. По Поляновскому миру Россия потеряла Прибалтику. — 1389 - 1425
4. Поводом к междоусобной войне на Руси в XV веке послужила неясность в завещании Дмитрия Донского.
5. За освобождение Москвы от поляков Кузьма Минин получил звание — думный дворянин.
6. При Михаиле Федоровиче землепроходцы вышли к Охотскому морю. 1613-1645
7. Союзником и другом Петра I был польский король Август II. 1733-1735
8. По Тильзитскому миру Россия получила Молдову и Валахию. Николай III
9. В подготовке земской реформы активно участвовал Николай Милютин.
10. В заговоре и убийстве Павла I участвовал Григорий Орлов.

Верно	Неверно
5, 2, 4, 7, 10	3, 4, 8, 6

Задание 7. Дайте определения следующим терминам (12 баллов).

Бобыль — представитель бедного или бездельного городского населения, писшего искаженные фискальные повинности.

Брандер — судно, парусное корабль, которое в ходе сражения взрывалось и направлялось на противника.

Гравюра — печатный оттиск рельефного рисунка на бумаге

Гольтьба — бедность, не имеющая постоянного источника существования и вынужденная заниматься на различные работы

Лавра — название крупных мужских монастырей, непосредственно по подчинению патриарху.

Подушная подать — налог, взимаемый с каждого двора закрепощенных крестьян.


МУНИЦИПАЛЬНЫЙ ЭТАП ОЛИМПИАДЫ ПО ИСТОРИИ
2017–2018 учебный год
8 КЛАСС

Задание 8. Расположите события в хронологической последовательности (6 баллов).

- А) Открытие Америки Христофором Колумбом 1492
В) Регентство Софьи Алексеевны 80 1682
Г) Открытие Эрмитажа для посещения публикой
Ж) Создание Вольного экономического общества 1785
З) Открытие первой железной дороги в России 18...
И) Соборное уложение 1649

<u>А</u>	<u>И</u>	<u>В</u>	<u>Ж</u>	<u>З</u>	<u>Г</u>
----------	----------	----------	----------	----------	----------

Задание 9. Рассмотрите изображение (картину) и дайте ответы на вопросы (12 баллов).



1. Назовите автора памятника

2. Укажите название памятника


Царь-канон

3. Укажите время создания памятника (с точностью до полувека)

1735

4. Какому событию русской истории он посвящен

МУНИЦИПАЛЬНЫЙ ЭТАП ОЛИМПИАДЫ ПО ИСТОРИИ
2017–2018 учебный год
8 КЛАСС



Б

1. Напишите название архитектурного сооружения

Церковь восхождения в Елизавету

2. Укажите примерное время создания (с точностью до полувека)

1090–1094


3. Дайте название данному архитектурному стилю

Ярёминское барокко

4. Назовите монарха, во время правления которого было построено это архитектурное сооружение

Петр I

4



В

1. Назовите автора картины

2. Назовите период русской истории, которому она посвящена

3. Укажите хронологические рамки данного периода

4. Назовите имя царя, изображенного на картине

с Ивана IV – 1547

0

Задание 10. Напишите правильный ответ (6 баллов).

1. Значительная часть улиц в Иваново-Вознесенске в XIX веке называлась в их честь?

2. На гербе какого поселения Ивановской области изображён символ электро-сварки?

3. По одной из версий, действие пьесы Островского «Гроза» происходит в одном из городов современной Ивановской области. В каком?

Максимальное количество баллов – 100.

0