

164-196-445-54

38

ВСЕРОССИЙСКАЯ ОЛИМПИАДА ШКОЛЬНИКОВ ПО ОБЩЕСТВОЗНАНИЮ.

МУНИЦИПАЛЬНЫЙ ЭТАП. 10 КЛАСС.

1 тур. Максимальный балл – 60.

1. «Да» или «нет»? Если вы согласны с утверждением «Да», если не согласны — «Нет». Внесите свои ответы в таблицу.

- 1.1. Приток мигрантов из стран Ближнего зарубежья вызовет снижение ставки заработной платы на рынке труда в Москве. Да
- 1.2. Международная система национальных государств была оформлена Утрехтским мирным договором (1713 г.). Нет
- 1.3. Переход из одной субкультурной группы в другую может быть примером социальной мобильности. Да
- 1.4. Изменения валютного курса оказывают влияние на общий уровень цен в стране. Да
- 1.5. Действия людей, основанные на следовании какой-либо значимой для них ценности, могут рассматриваться как рациональные. Нет
- 1.6. Для Джона Локка жизнь человека в естественном состоянии «одинок, бедна, беспросветна, тула и кратковременна». Да
- 1.7. Указание на юридические факты содержится в диспозициях правовых норм. Нет
- 1.8. В гражданском процессе решения суда могут быть основаны на предположениях. Нет
- 1.9. Фирма, обладающая властью над рынком, может продать продукцию, по той цене, которую она назначит. Да
- 1.10. Никколо Макиавелли был убежденным противником демократии и в своей книге «Государь» дал развернутую критику этой формы правления. Нет

1	2	3	4	5	6	7	8	9	10
Да	Нет	Да	Да	Нет	Да	Нет	Нет	Да	Нет

Максимум за задание – 10 баллов

2. Задания на ряды. Максимум за задание – 3 балла

Что объединяет понятия, образующие каждый из представленных рядов? Дайте краткий ответ.

- 2.1. Фрикционная, структурная, циклическая, сезонная безработица
- 2.2. Нуклеарная, эгалитарная, расширенная, полигамная семья
- 2.3. Относительность, противоречивость, поступательное развитие прогресс

3. Задачи по экономике. Максимум за задание – 6 баллов

3.1. Дано: кривая спроса на продукцию в национальной экономике описывается следующим уравнением: $Q_d(P) = 1000 - 6,2P$, а кривая предложения – уравнением $Q_s(P) = -100 + 3,8P$. Мировая цена на данную продукцию установилась на уровне 100 ден. ед. за изделие.

Определите: запросы граждан страны на приобретение импортной продукции в условиях свободной торговли с нулевыми транспортными расходами.

$$\text{Спрос будет: } 1000 - 620 = 380$$

$$\text{А спрос на чужд: } -100 + 380 = 280$$

$$\text{Далее, импорт чужд: } 380 - 280 = 100$$

$$\text{Итого: закупить еще 100 ед. продукции по цене 100,}$$

$$\text{Затраты: } 100 \cdot 100 = 10000$$

$$\text{Объем: } 10000$$

3.2. Дано: Спрос на импортный товар и его предложение (импорт) формализуются при помощи следующих аналитических выражений: $Q_d = 3000 - 20P$ и $Q_s = 1800 + 20P$, где P – цена за единицу товара, тыс. ден. ед. В результате введения таможенной пошлины внутренняя цена за единицу данного товара возросла на 10 тыс. ден. ед.

Определите соответствующий размер таможенной пошлины, приведенной к этому результату (в ден. ед.).

$$3000 - 20P = 1800 + 20P$$

$$3000 - 1800 = 40P$$

$$1200 = 40P$$

$$600 = 40P$$

$$60 = 4P$$

$$P = 15 \text{ Цена стала } 100 + 15 = 115$$

$$\text{Пошлина } 10000$$

4. Социологическая задача. Максимум за задание – 9 баллов

4.1. Условие задачи: Театральная актриса долгое время не могла найти работу по специальности и вынуждена была стать официанткой в кафе. Здесь её заметил известный режиссёр и пригласил на главную роль в своём новом фильме, ставшем впоследствии очень популярным.

О каком социальном процессе свидетельствуют приведённые факты? Какие два вида этого процесса нашли отражение в этом примере? Проиллюстрируйте каждый из них приведёнными в условии задания фактами.

5. Задачи по праву: Максимум за задания - 7 баллов.

Задача 5.1.

Петров А.К. родился в 1973 г. в г. Киеве и проживал на Украине. В августе 2005 г. он приехал к сестре своей матери - гражданке РФ в г. Иваново и обратился в уполномоченные государственные органы с просьбой о приобретении гражданства РФ. Петров не является гражданином Украины. По какому основанию и в каком порядке Петров может приобрести гражданство РФ, какие требования при этом ему необходимо выполнить?

Петров А.К. имеет законную границу
на основании того, что у него в России
находятся родственники (мать)
воссоединение семьи
Сначала он должен получить вид на

Задача 5.2.

При оплате в Сбербанке коммунальных платежей Александру предложили на сдачу взять лотерейный билет. В этот момент Александру позвонила супруга - Ирина. Он рассказал ей о возможности приобрести лотерейный билет. Ирина была категорически против, так как она никогда не приобретала лотерейных билетов, считая это пустой тратой денег. Не послушав жену, Александр приобрел билет. Придя домой, и, показав билет, Александр еще раз услышал недовольство жены о совершенной им покупке. Через неделю стало известно, что по билету выиграна стиральная машина последней модели одного известного производителя бытовой техники. Ирина была очень недовольна и фактом выигрыша и призом, так как для машины пришлось освободить место, подключить ее и совершить ряд иных технических действий. По прошествии некоторого времени обстановка в семье накалилась и супруги приняли решение о расторжении брака и разделе имущества. Каждый из них составил перечень имущества, которое считал своим. Оба были очень удивлены, что в обоих списках числится стиральная машина. Александр настаивал, что стиральная машина его, так как именно он купил лотерейный билет, а Ирина была против совершения данной сделки. Ирина же считала, что машина принадлежит только ей, так как использовала машину именно она, Александр ни разу не сирал в ней и даже не знает как ею управлять.

Кто из героев прав? Решите дело.

Билет выиграл т.к. лотерейный билет
был куплен именно Александром без участия
Ирины. И так как машину выиграл Александр
то и машина должна быть у него. А это
значит, что стиральная машина - его имущество,
даже не смотря на то, что он не
умел ей пользоваться.

Социальная ответственность
предприятия и государства
в развитии. Билет государственной
лотереи. Не имеет каких-либо
привилегий и сама организация
на основании и сама организация

4.2. Проанализируйте предложенную таблицу. Какие три вывода можно сделать на основе данных, представленных в ней, сравнивая разные индексы в России и Ивановской области?

Индекс развития человеческого потенциала в России и в Ивановской области в 2015 - 2017 гг.

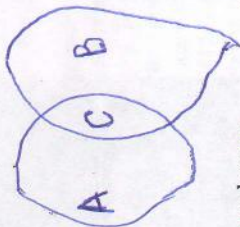
Показатель	Россия		Ивановская область	
	2015	2017	2015	2017
Индекс образования	0,933	0,943	0,922	0,932
Индекс здоровья	0,773	0,779	0,760	0,761
Индекс доходов	0,912	0,900	0,756	0,755

1. Индекс образования повысился по сравнению с 2015 по всей России и Ивановской области
на один и тот же показатель, что свидетельствует
о росте образовательного сектора по всей
России, но и достаточно Ивановскую область

2. В то время как индекс здоровья по
всей Ивановской области вырос в Ивановской
области всего на 0,001, это значит, что индекс
здоровья в Ивановской области растет не
пропорционально бюджетному.

3. При этом индекс доходов по всей
Ивановской области (на 0,012), но в Ивановской области
высше, чем на 0,01, что свидетельствует
о высокой доходности Ивановской области
в этой области

Школьник (А), Студент (В), Учащийся (С).



Корнеев, Докшин, Мареев и Скобелев — жители нашего города. Их профессии — пекарь, врач, инженер и милиционер. Корнеев и Докшин — соседи и всегда на работу ездят вместе, Докшин старше Мареева. Корнеев регулярно обыгрывает Скобелева в пинг-понг. Пекарь на работу всегда ходит пешком. Милиционер не живет рядом с врачом. Инженер и милиционер встречаются единственный раз, когда милиционер оштрафовал инженера за нарушение правил уличного движения. Милиционер старше врача и инженера.

корнеев, он всегда ездит на работу вместе с Докимичем, знает они не только ^{лучше} так то и тогда оми ленивом, и он тако, не интимисер, или та, а Докимич не мог бы так работать (милуя работ) и интимиром (она везица оми руд). Знает Корнеев и Докимич томо в парам и не интимисер, потому что интимиром, но Корнеев - враг, знает Докимич - интимир, Корнеев не может быть интимиром, т.к. он интимир интимера (Докимича) он попарин за интимиром - интимисер.

Корнеев - брат, Доминик - инженер, Штребель - немка,
Сюбарев - музыкант

Страны: Германия, Россия, США, Катар, Иордания, Швеция

Формы государственного устройства: унитарное государство, федерация.

Страна	Форма правления	Форма государственного устройства
1. Германия	парламентская республика	федерация
2. Россия	императорская конституция	федерация
3. США	президентская республика	федерация
4. Катар	абсолютическая монархия	унитарная ГСЧ-ВО
5. Иордания	узулатическая монархия	федерация
6. Швеция	парламентская монархия	унитарная ГСЧ-ВО

Максимум за задание – 6 баллов

В 1920 г. в Индии были найдены две девочки, воспитанные волками. Единственным звуком, который издавали дети, был громкий вой. Они никогда не смеялись, испытывали страх перед огнем и не любили солнечного света. В то же время девочки могли хорошо видеть в темноте, передвигаться на четырех ногах, а запах мяса чувствовали на расстоянии 70 метров. Прожив несколько лет в человеческом обществе, дети усвоили только элементарные человеческие навыки. Старшая девочка выучила около 30 слов.

Дом 250 на более gamle на реллеге
стане 260-м году еврею в
гиткой реллеге.

что человек переживает все аспекты
существования, в котором он растет и
становится, роковым на него, будущее волеи
или неволе, он ставит растению их будущее
или нет.

9.1. В Древнем Риме в критические для государства моменты вводилась чрезвычайная должность, носителя которой называли предводителем народа. На первых порах их избирали из патрициев, но в 356 году до н.э. им впервые стал шлебей.

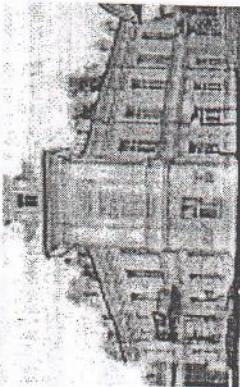
bestimmung

potassium


9.3. Какое понятие в переводе с латыни означает «роспись имен»? Оно используется для определения круга должностных лиц, назначение или утверждение которых относится к компетенции какого-либо высшего органа.

10. Ознакомьтесь с представленными материалами и выполните предложенные задания. Ниже даны изображения архитектурных сооружений г. Иванова. Распределите их по парам. Напишите буквенное обозначение изображений и критерий выделения каждой пары. Какое изображение лишнее, объясните, почему. Максимум за задание – 8 баллов.


А.




Б.




В.




Г.




Д.



Е.



Ж.



1 пара:

БА Сель - конструкторизм

2 пара:

АВ Дома прикладные ином

3 пара:

ГЕ Здание, расположенное в перекрестии проспекта Кирова

Лишнее изображение: Ж. Здание относится к религиозным

каким был бы не представлять

Оценка за работу

Номер задания	1	2	3	4	5	6	7	8	9	10	Итого баллов
Оценка за задание	4	3	4	9	1	3	6	1	0	7	38

«Когда я собираюсь ехать в какую-либо страну, я не смотрю, какие там законы, я смотрю на то, как они так реализуются»

(политология, юриспруденция)

Правильная реализация законов всегда была большой проблемой для многих государств. И вообще, что такое «правильная»?

Каждый из нас имеет свои понятия о корректности реализации законов, ведь все хочет жить по справедливости, в своем понимании. И тут появляются законодательные органы, структурирующие эту самую «справедливость». Умывая интересы каждого (формально) они выпускают свод законов, который регулирует отношения между людьми. Но вот люди, следящие за соблюдением этих законов, иногда могут быть заинтересованы в получении личной выгоды или в долговременном удержании власти.

Именно об этом в своем высказывании нам и говорит Менгеске. Стоит следить не за законами, а за их реализацией, я полностью согласен с ним, ведь никто же не хочет жить в тоталитарном государстве. Например, СССР во время правления И.В. Сталина: была принята одна из самых передовых конституций, даже по меркам демократических государств, но на деле ее просто не существовало: нарушались права человека, несопоставимые с властью могли расстрелять даже без приговора суда (существовала комиссия из нескольких человек, всегда принимавшая сторону обвиняемого), существовала жесткая цензура и другие черты тоталитарного государства. Существовало еще множество таких «прогрессивных» на бумаге государств. Дмитрий Оруэл в своем романе «1984» собрал основные черты таких государств. В заключение хочу сказать, что все эти законы служат не для исполнения законов властью, это наша вечная беда и проблема.