

7 кл.

Шифр

МН-011

Тексты заданий для муниципального этапа олимпиады
по ИСКУССТВУ (МИРОВОЙ ХУДОЖЕСТВЕННОЙ КУЛЬТУРЕ)





**МУНИЦИПАЛЬНЫЙ ЭТАП
ВСЕРОССИЙСКОЙ ОЛИМПИАДЫ ШКОЛЬНИКОВ
ПО ИСКУССТВУ (МИРОВОЙ ХУДОЖЕСТВЕННОЙ КУЛЬТУРЕ)
2019/2020 УЧЕБНОГО ГОДА**

Комплект заданий для учеников 7-8 классов

Номер задания	Баллы
1.1	30
1.2	25
2.1	13
2.2	15
3	18
4.1	31
4.2	23
Общий балл	155

Задание 1.1. Перед Вами ребусы, разгадайте их и впишите расшифрованное слово в таблицу. Ниже даны изображения, сопоставьте расшифрованное слово с номером изображения и запишите ответ в таблицу.




1	2	3	4
			

Расшифрованное слово	Номер изображения
Эллинизм	5
Архавка	5

Задание 1.2.

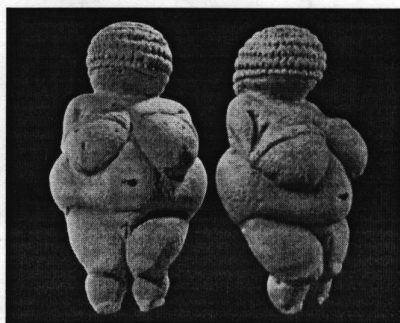
1. Определите, что это за архитектурное сооружение представлено на иллюстрации.
2. Назовите эпоху, в которой создано данное сооружение.
3. Какие еще Вы знаете памятники художественной культуры этой эпохи?
4. Ответы запишите в таблицу.



Название архитектурного сооружения	Эпоха (век)	Другие памятники художественной культуры представленной эпохи
Пирамида Хеопса	5 Древний Египет : 2560 г. до н.э.	Розовая пирамида Ламанная пирамида Пирамиды Гизы. Пирамида Джосера Большой Сфинкс.

Задание 2.1.

1. Определите произведение, которое Вам представлено. Напишите его название, примерное время создания.
2. Какие материалы использовались для создания такого рода произведений? Какой размер имеет данная скульптура?
3. Что символизирует данная скульптура?



Название скульптуры и время создания	Венера. Создана в каменном веке.
Материалы	Глина, мягкий камень, камень.
Размер	Не большая, даже маленькая (5-20 см).
Что символизирует данная скульптура	Символизирует материнство, плодородие.

--	--

Задание 2.2. Прочитайте текст

1. Определите памятник архитектуры, о котором говорится в тексте. Напишите его название.
2. Напишите имя автора сооружения.
3. Назовите средства художественной выразительности, при помощи которых передана эмоциональная атмосфера произведения.

Где римский судия судил чужой народ,
Стоит базилика, – и, радостный и первый,
Как некогда Адам, распластывая нервы,
Играет мышцами крестовый легкий свод.

Но выдает себя снаружи тайный план:
Здесь позаботилась подпружных арок сила,
Чтоб масса грузная стены не сокрушила,
И свода дерзкого бездействует таран.

Стихийный лабиринт, непостижимый лес,
Души готической рассудочная пропасть,
Египетская мощь и христианства робость,
С тростинкой рядом – дуб, и всюду царь – отвес.

Но чем внимательней, твердыня Notre Dame,
Я изучал твои чудовищные ребра,
Тем чаще думал я: из тяжести недоброй
И я когда-нибудь прекрасное создам.

О. Э. Мандельштам

Автор и название произведения
Садор Парижской Богоматери. Автор: О. Э. Мандельштам.
Средства художественной выразительности

Эпитеты: масса грузная, свода дерзкого, души готической.

Олицетворение: Играет мышцами крестовой лёгкий свод. Но выдаёт себя снаружи тайный тая.



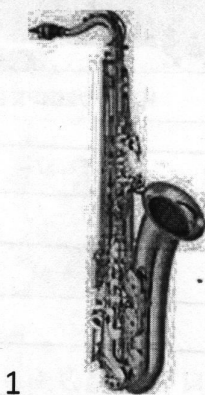
Противопоставление: Египетская мощь и христианства робость, Тропикой - дуб; царь - отрёс.


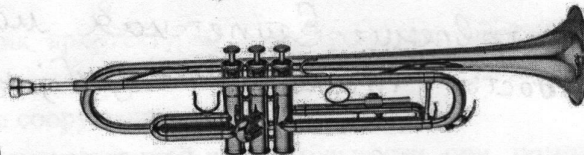
Метафора: и встуду царь - отрёс.

$P + Z$

Задание 3. Прослушайте музыкальные фрагменты.

Какие музыкальные инструменты из представленных на картинках присутствовали в музыкальных отрывках? Правильные ответы внесите в таблицу.





	Инструменты (указать номер)	
1	6.	2.
2	2, 5, 7.	2 2 2
3	9, 1, 2, 4, 8.	2 2 2
4	8, 3.	2 2

Задание 4.1


1. Рассмотрите скульптуры богов.
2. Напишите имена всех предоставленных богов.
3. Найдите среди них Античных богов и определите их мифологические особенности.



№	Имена богов	
1	Анг	2
2	Перун.	2
3	Зевс	2
4	Винну	2
5	Шива.	2
6	Лада.	2
7	Посейдон.	2
8	—	0
9	Афродита	2
10	Велес.	2

Античные боги	Основные функции
Анг 2	Бог под земного царства (греческий) /
Зевс 2	Бог неба, молний, главный греческий бог. //
Посейдон 2	Бог морей и океанов (греческий бог). /
Афродита 2	Богиня красоты (греческая богиня) /

Задание 4.2 Назовите достопримечательности Афинского Акрополя, которые вы видите на карте и опишите их (кому посвящены, характерные черты архитектурных сооружений).



№	Название	Описание
1	Храм Афины Ники 2	кому посвящен: Афине Нике 2 характерные черты архитектурного сооружения: Там находится статуя Афины Ники без крыльев. 1
2	Пропилеи 2	кому посвящен: Афине 0. характерные черты архитектурного сооружения: 2 вида колон. Красивое строение. Является входом в двор. 2
3	Памятник Афине освободительнице 2	кому посвящена: Афине освободительнице 2

		<p>характерные черты скульптуры:</p> <p>Памятник бронзовый, а меч и щит золотые.</p> <p>2</p>
4		<p>кому посвящен:</p> <p>Афине, Пасейдону. 2</p> <p>характерные черты архитектурного сооружения:</p>
5	<p>Парфенон.</p> <p>2</p>	<p>кому посвящен: Афине. 2</p> <p>характерные черты архитектурного сооружения:</p> <p>Главный храм в древних Афинах. Все колонны на равном расстоянии друг от друга. 2</p>

Номер	Баллы
11	30
12	25
21	13
22	8
3	18
41	31
42	23
Общий балл	158