

ТЕОРЕТИЧЕСКИЙ ТУР

Общая часть

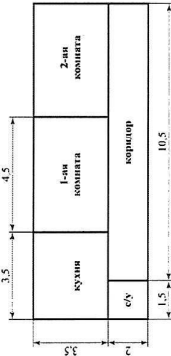
1. Напишите название устройства, изображенного на фотографии

Ответ: квадрокоптер



2. При расчете материалов для ремонта квартиры необходимо знать площадь помещения. В квартире имеются две комнаты, кухня, прихожая и санузел. Используя приведенный ниже план, найдите площадь всей квартиры. Ответ запишите в квадратных метрах.

Решение: $1) 2 + 3,5 = 5,5$
 $3) 5,5 + 1,5 = 7$
 $3) 7 \cdot 12 = 84$



3. Спортивный костюм стоил 2000 рублей, через три месяца его уценили на 60 %. Какова будет цена этого костюма во время проведения акции, предоставляющей 30 % скидки на весь товар?

Решение: $1) 60 \cdot 2000 : 100 = 1200$; $2) 2000 - 1200 = 800$

4. О какой профессии идёт речь в отрывке из стихотворения Лью Ошанна «Мы долго выбрали свою»?

«У нас профессия такая.
 В слепом огне пылает дом,
 И стонут балки под ногами,
 А мы идём, мы идём,
 И тушим пламя, тушим пламя...»

Ответ: пожарники

5. Дан список профессий. Выберите те, которые относятся к промышленному производству.

- а) парикмахер
- б) оператор швейного оборудования
- в) кинолог
- г) учитель
- д) технолог

6. Выберите правильный ответ. На каком этапе выполнения творческого проекта разрабатывается графическая документация?

- а) поисковый
- б) конструкторский
- в) технологический
- г) заключительный

Специальная часть

7. Отгадайте загадку. О каком пищевом продукте идет речь?

«Есть такой продукт молочный
 – Он полезен очень-очень.
 Чтобы вырасти ты смел,
 Ешь питательный творог».

8. Какое блюдо можно приготовить из этого продукта?

Ответ: сырники

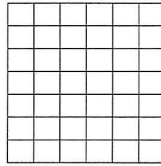
9. Установите соответствие между продуктами и их происхождением.

продукты	происхождение
а) Сыр	1) Растительное
б) Крупа	2) Животное
в) Кукурузное масло	
г) Яйца	
д) Сахар	

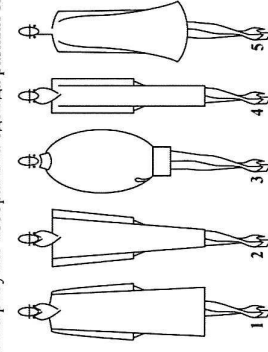
10. От какого слова происходит название блюда «винегрет»?

Ответ: виноград

11. Изобразите схему плотного переплетения.



12. На рисунке изображена одежда разных силуэтов. Выберите силуэт «трапеция».

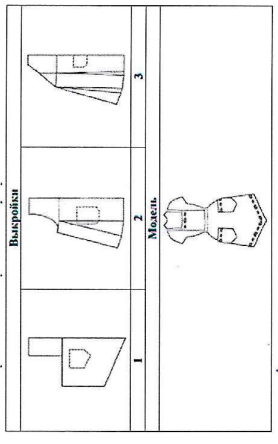


Ответ: 1.

ТА-001

4

13. Выберите выкройку для предложенной модели фартука.



14. Какая мерка определяет положение линии бедер в чертеже основы прямой юбки?

- а) Дл
- б) Сб
- в) Ст
- г) Дсп

15. Какой термин соответствует следующей операции: соединить две или несколько деталей примерно одинаковые по величине?

- а) стачать
- б) притачать
- в) втачать
- г) обтачать

16. В каком механизме швейной машины формируется стежок?

Ответ:

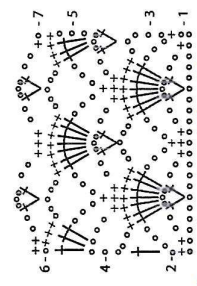
17. К какому виду освещения относится торшер?

Ответ: локальное

18. Верно ли утверждение, что для увеличения видимых размеров комнат можно использовать зеркала?

Ответ: Да/нет (Нужное подчеркнуть)

19. Приведена схема выполнения узора. К какому виду рукоделия подходит данная схема?



20. Как называется совместный приём пищи, когда приглашённые едят стоя, свободно выбирая блюда и напитки, обслуживая себя самостоятельно и используя в качестве столового прибора преимущественно вилку? Стульев и столов со строго расписанными местами не предусматривается.

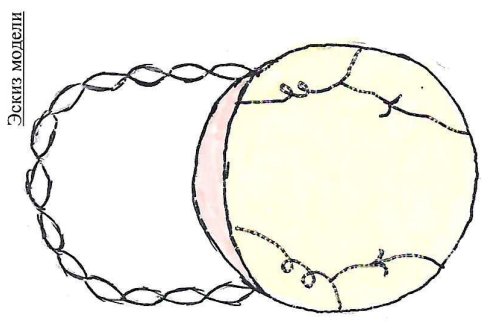
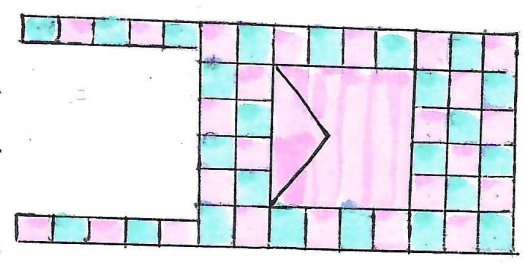
Ответ:

20. Как называется совместный приём пищи, когда приглашённые едят стоя, свободно выбирая блюда и напитки, обслуживая себя самостоятельно и используя в качестве столового прибора преимущественно вилку? Стульев и столов со строго расписанными местами не предусматривается.

Ответ:

Творческое задание (5 баллов)

Предложите две модели сумок разного назначения. Выполните эскизы моделей в цвете. Сделайте описание моделей по эскизам (назначение сумки, форма и размер сумки, тип и длина ручек, наличие карманов).



Эскизы модели

Шопер. С ним удобно ходить в магазин, потому что он имеет большую вместительность. Карманов не имеет. Вместо 2 ручек. И имеет 1 карман.

Сумка на плечо. Маленького размера. Хорошо брать, потому что она имеет удобную форму. Карманов не имеет. Вместо 2 ручек. И имеет 1 карман.